


LD1

bílý na tahu

Který z následujících tahů bílého je správný?

- a) 1.Kd2 b) 1.Kf2 c) 1.f4


LD2

bílý na tahu

Který z následujících tahů bílého je správný?


- a) 1.Kd5 b) 1.Ke5 c) 1.Kf5

LD3

bílý na tahu

Hodnocení, jaký tah bílými zahrajete?

LD4

bílý na tahu

Hodnocení, jaký tah bílými zahrajete?

Kategorie

Jméno

Kraj

List

L2

LD5

bílý na tahu



Hodnocení, jaký tah bílými zahrajete?

LD6

bílý na tahu



Hodnocení, jaký tah bílými zahrajete?

LD7

bílý na tahu



Hodnocení, jaký tah bílými zahrajete?

LD8

bílý na tahu



Hodnocení, jaký tah bílými zahrajete?

LD9

černý na tahu

Který z následujících tahů černého je správný?


- a) 1...Kf6 b) 1...Kh6 c) 1...Kh5

LD10

černý na tahu

Hodnocení, jaký tah černými zahrajete?

LD11

černý na tahu

Hodnocení, jaký tah černými zahrajete?

LD12

černý na tahu

Který z následujících tahů černého je správný?

- c) 1...a5 b) 1...Sc6 c) 1...Ke6

Kategorie

Jméno

Kraj

List

L4

LD13

černý na tahu



Hodnocení, jaký tah černými zahrajete?

LD14

černý na tahu



Hodnocení, jaký tah černými zahrajete?

LD15

černý na tahu



Hodnocení, jaký tah černými zahrajete?

LD16

černý na tahu



Hodnocení, jaký tah černými zahrajete?

Kategorie

Jméno

Kraj

List

L5

LD17

bílý na tahu



Hodnocení, jaký tah bílými zahrajete?

LD18

bílý na tahu



Hodnocení, jaký tah bílými zahrajete?

LD19

bílý na tahu



Který z následujících tahů bílého je špatný?

- a) 1.Vxc8 b) 1.Se4+ c) 1.De4+

LD20

černý na tahu



Který z následujících tahů černého je správný?

- b) 1...d5 b) 1...Je4 c) 1...Jg4